

「数学的な考え方を育てる教材の開発」

—積分を使って立体の体積を楽しく求める—

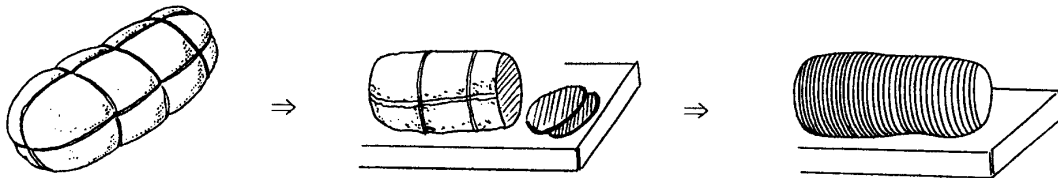
入川 義克

小学校や中学校では、三角形・四角形・円などの平面図形の面積や角柱・角錐・球などの立体図形の体積を求めてきた。しかし、面積や体積を求めるこれらの公式が、どのように導きだされたかを知るのには、高等学校で積分を習ってからである。ここでは、「平面スライス型分割」を土台に、教科書にはない楽しい求積のアイデア「バームクーヘン型分割」「雪だるま型分割」「とんがり帽子型分割」などの考え方をを使って、いろいろな立体図形の体積を求めていく。

ここで紹介する内容は、集中講義「空間図形と微積融合問題を斬る」の中で空間図形と微積融合問題を攻略しその弱点を補強するために実施した演習の時間に扱ったものである。「導関数の定義」と「はさみうちの原理」を基礎にして、求積公式を導き、いろいろな切り口から求積問題に迫ることで、どんな問題にも対処できる実力をつけていく教材の開発をめざしている。

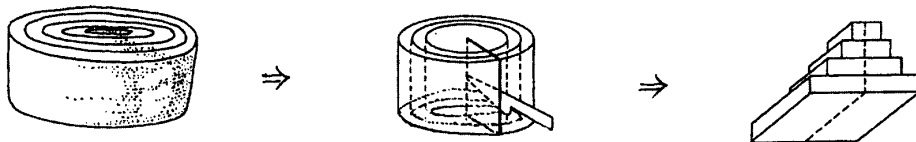
1. 立体の体積を求めるいろいろな考え方

《A》平面スライス型分割による方法



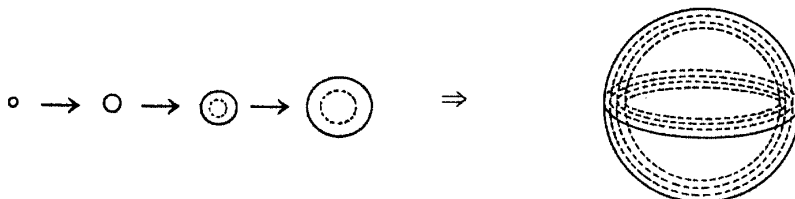
ハムの塊をうすくスライスして、その1枚ずつのスライスの体積を微小体積（断面積×厚さ）として求め、その総和として体積を求める。

《B》バームクーヘン型分割による方法



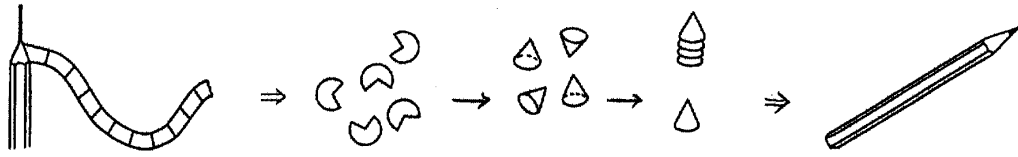
バームクーヘンに切り込みを入れて1枚ずつはがし、その1枚ずつの年輪の体積を直方体の微小体積（長方形の面積×厚さ）として求め、その総和として体積を求める。

《C》雪だるま型分割による方法



雪だるまを作るように球の表面に皮膜を1枚ずつ張りつけ、その1枚ずつの皮膜の体積を球面の微小体積（球の表面積×厚さ）として求め、その総和として体積を求める。

《D》とんがり帽子型分割による方法

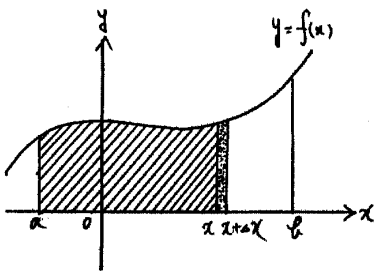


鉛筆を鉛筆削りで削るとき、1周分の削りかすは扇形になるので、その1枚ずつの扇形の体積を微小体積（扇形の側面積×厚さ）として求め、とんがり帽子状に重ねて、その総和として体積を求める。

2. いろいろな公式を導くときの基本となる考え方

体積の公式を導く前に、「導関数の定義」にもどって、 $\int_a^b f(x) dx$ が曲線 $y = f(x)$ と x 軸及び x 軸に垂直な直線 $x = a$ 、 $x = b$ によって囲まれた図形の面積であることを確認する。

(ただし、 $a \leq x \leq b$ において $f(x) \geq 0$ とする)



斜線部分の面積は、 x の関数で $S(x)$ とおける。

このとき、 x の増分を Δx とすると、

i) $\Delta x > 0$ のとき、

$[x, x + \Delta x]$ における $f(x)$ の最大値と最小値をそれぞれ $f_M(x)$ 、 $f_m(x)$ とすれば

$$\Delta x \cdot f_m(x) \leq S(x + \Delta x) - S(x) \leq \Delta x \cdot f_M(x)$$

$$\Delta x > 0 \text{ だから } f_m(x) \leq \frac{S(x + \Delta x) - S(x)}{\Delta x} \leq f_M(x) \text{ が成り立つ。}$$

ここで、 $\lim_{\Delta x \rightarrow 0} f_m(x) = f(x)$ 、 $\lim_{\Delta x \rightarrow 0} f_M(x) = f(x)$ だから、はさみうちの原理より

$$\lim_{\Delta x \rightarrow 0} \frac{S(x + \Delta x) - S(x)}{\Delta x} = f(x) \dots (\ast 1)$$

ii) $\Delta x < 0$ のときは、 $[x + \Delta x, x]$ において、 $S(x) - S(x + \Delta x)$ として考えると、 $(\ast 1)$ の式が求められる。

したがって、 $S'(x) = f(x) \therefore S(x) = \int f(x) dx = F(x) + C$ とおくと

$$S(a) = F(a) + C = 0 \text{ より、} C = -F(a)$$

以上のことより、 $S(b) = F(b) + C = F(b) - F(a) = \int_a^b f(x) dx$ である。

はさみうちの原理の所で、積分の平均値の定理を使ってもよいが、体積の公式を求めるときの考え方につながり、ここでは、はさみうちの原理を使った。

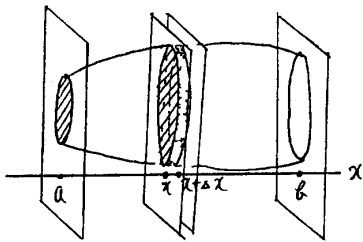
《A》平面スライス型分割によって体積を求める

軸に垂直な平面 $x = a$ 、 $x = b$ によって囲まれた立体の体積は、 $V(x) = \int_a^b S(x) dx$

であることを導く。(ただし、 $S(x)$ は、目盛 x を通る軸に垂直な平面で立体を切断したときの切断面の面積である)

図のように、軸に垂直な平面 $x = a$ と目盛 x の点を通り軸に垂直な平面で囲まれた立体の体積は、

x の関数で $V(x)$ とおける。



このとき、 x の増分を Δx とすると、

i) $\Delta x > 0$ のとき、

$[x, x + \Delta x]$ における $S(x)$ の最大値と最小値をそれぞれ $S_M(x)$, $S_m(x)$ とすれば

$$\Delta x \cdot S_m(x) \leq V(x + \Delta x) - V(x) \leq \Delta x \cdot S_M(x)$$

$$\Delta x > 0 \text{ だから } S_m(x) \leq \frac{V(x + \Delta x) - V(x)}{\Delta x} \leq S_M(x) \text{ が成り立つ。}$$

ここで、 $\lim_{\Delta x \rightarrow 0} S_m(x) = S(x)$, $\lim_{\Delta x \rightarrow 0} S_M(x) = S(x)$ だから、はさみうちの原理より

$$\lim_{\Delta x \rightarrow 0} \frac{V(x + \Delta x) - V(x)}{\Delta x} = S(x) \dots (\ast 2)$$

ii) $\Delta x < 0$ のときは、 $[x + \Delta x, x]$ において、 $V(x) - V(x + \Delta x)$ として考えると、
($\ast 2$) の式が求められる。

したがって、 $V'(x) = S(x) \therefore V(x) = \int S(x) dx = F(x) + C$ とおくと

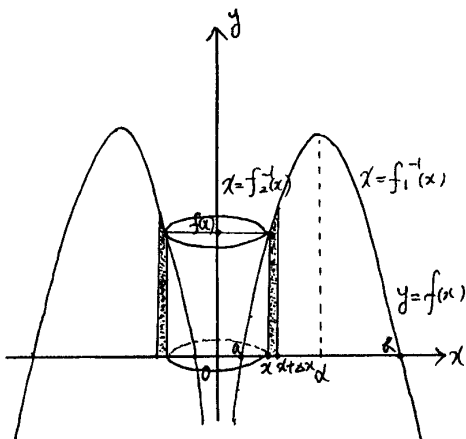
$$V(a) = F(a) + C = 0 \text{ より、} C = -F(a)$$

以上のことより、 $V(b) = F(b) + C = F(b) - F(a) = \int_a^b S(x) dx$ である。

図形の面積や立体の体積の公式を求めるこの考え方は、「バームクーヘン型分割」「雪だるま型分割」「とんがり帽子型分割」によって、立体の体積を求める場合にも、同様に適用できる。

《B》バームクーヘン型分割によって体積を求める

図のような、曲線 $y = f(x)$ と x 軸で囲まれる領域を y 軸のまわりに回転させたときにできる回転体の体積は、 $y = f(x)$ より



$$x = \begin{cases} f_1^{-1}(x) & (x \geq a) \\ f_2^{-1}(x) & (x \leq a) \end{cases} \text{ を求めて } y \text{ 軸のまわりに回転}$$

させて求めることになる。

バームクーヘン型分割によれば、原点中心、半径 x の円を底面とし、高さが $f(x)$ の円柱の体積は、 x の関数で $V(x)$ とおける。このとき、 x の増分を Δx とすると、

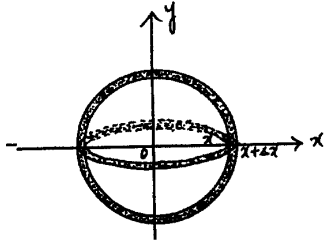
$$\lim_{\Delta x \rightarrow 0} \frac{V(x + \Delta x) - V(x)}{\Delta x} = 2\pi x \cdot f(x) \text{ より}$$

$$V(x) = 2\pi \int_a^b x \cdot f(x) dx \text{ である。}$$

《C》雪だるま型分割によって体積を求める

半径 r の球の体積は、半径 r の円： $x^2 + y^2 = r^2$ を x 軸のまわりに回転させてできる回転体の体積として求められる。雪だるま型分割によれば、原点中心、半径 x の球の体積は、 x の関数で

$V(x)$ とおける。このとき、 x の増分を Δx とすると、



$$\lim_{\Delta x \rightarrow 0} \frac{V(x + \Delta x) - V(x)}{\Delta x} = 4\pi x^2 \text{より}$$

$$V(x) = 4\pi \int_0^r x^2 dx = \frac{4}{3}\pi r^3$$

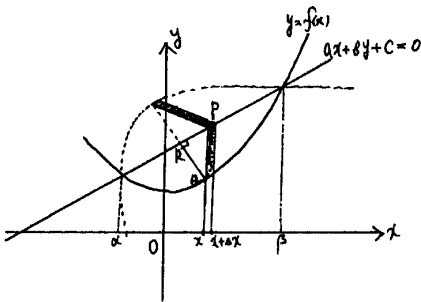
ここで、球の表面積 $4\pi x^2$ は、円の上半分： $y = \sqrt{r^2 - x^2}$ を x 軸のまわりに回転させた回転体の側面積として、

$$S = 2\pi \int_r^r y \sqrt{1 + \left\{ \frac{dy}{dx} \right\}^2} dx \text{ から求めることになる...! (この式は、回転体の側面積の所で導く)}$$

《D》とんがり帽子型分割によって体積を求める

座標軸とは異なる直線のまわりに回転させた回転体の体積を求めるときに有効である。

図のような、曲線 $C: y = f(x)$ と直線 $L: ax + by + c = 0$ ($b \neq 0$) で囲まれる領域を、この直線 L のまわりに回転させたときにできる回転体の体積は、とんがり帽子型分割によれば、



次のように求められる。

$(x, 0)$ を通り、 x 軸に垂直な直線と直線 L および曲線 C との交点を、それぞれ P, Q とする。

線分 PQ を直線 L のまわりに回転するとき、 Q から直線 L へ下ろした垂線の足を R とすると、中心 R 、半径 QR の円を底面とし P を頂点とする円錐の側面積を $S(x)$ 、とんがり帽子までの体積は x の関数で、 $V(x)$ とおける。

このとき、 x の増分を Δx とすると、

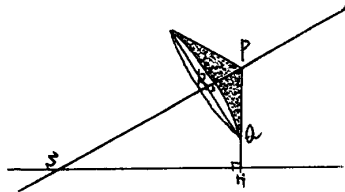
$$\lim_{\Delta x \rightarrow 0} \frac{V(x + \Delta x) - V(x)}{\Delta x} = S(x)$$

$$\therefore V = \int_{\beta}^{\alpha} S(x) dx$$

(α, β は、曲線 $C: y = f(x)$ と直線 $L: ax + by + c = 0$ ($b \neq 0$) の交点の x 座標)

$$\text{ここで、} S(x) = \pi \cdot PQ^2 \times \frac{2\pi \cdot QR}{2\pi \cdot PQ} = \pi \cdot PQ \cdot QR$$

直線Lの傾きが、 $-\frac{a}{b}$ で、 $\triangle PQR \sim \triangle PSH$ (直線L、直線PQとx軸との交点をそれぞれS、Hとする)より、



$$PQ : QR = PS : SH \quad \therefore PQ : QR = \sqrt{a^2 + b^2} : |b|$$

$$\therefore QR = \frac{|b|}{\sqrt{a^2 + b^2}} PQ$$

$$\text{したがって、} S(x) = \frac{\pi |b|}{\sqrt{a^2 + b^2}} PQ^2 = \frac{\pi |b|}{\sqrt{a^2 + b^2}} \left| -\frac{a}{b}x - \frac{c}{b} - f(x) \right|^2$$

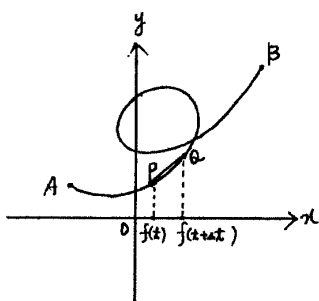
$$= \frac{\pi}{|b| \sqrt{a^2 + b^2}} |ax + b \cdot f(x) + c|^2 \text{だから}$$

$$V = \frac{\pi}{|b| \sqrt{a^2 + b^2}} \int_a^b |ax + b \cdot f(x) + c|^2 dx \text{である。}$$

☆曲線の長さ、回転体の側面積、極座標で表された関数の面積を求める。

tを媒介変数として $\begin{cases} x = f(t) \\ y = g(t) \end{cases} \quad (\alpha \leq t \leq \beta)$ で表される曲線の長さLは、

$$L = \int_a^b \sqrt{|f'(t)|^2 + |g'(t)|^2} dt \text{であることも次のように求められる。}$$



曲線上の点A $(f(\alpha), g(\alpha))$ から点P $(f(t), g(t))$ までの曲線の長さは、tの関数でL(t)とおける。

このとき、tの増分を Δt とすると、

i) $\Delta t > 0$ のとき、

点P $(f(t), g(t))$ から点Q $(f(t + \Delta t), g(t + \Delta t))$ までの曲線の長さは、線分PQの長さで近似できる。

$$L(t + \Delta t) - L(t) \doteq \sqrt{|f(t + \Delta t) - f(t)|^2 + |g(t + \Delta t) - g(t)|^2}$$

両辺を Δt で割ると

$$\frac{L(t + \Delta t) - L(t)}{\Delta t} \doteq \sqrt{\left\{ \frac{f(t + \Delta t) - f(t)}{\Delta t} \right\}^2 + \left\{ \frac{g(t + \Delta t) - g(t)}{\Delta t} \right\}^2}$$

$$\Delta t \rightarrow 0 \text{のとき、} L'(t) = \sqrt{|f'(t)|^2 + |g'(t)|^2} \dots (\ast 3)$$

ii) $\Delta t < 0$ のときは、 $[t, t + \Delta t]$ において、 $L(t) - L(t + \Delta t)$ として考えると、 $(\ast 3)$ の式が求められる。

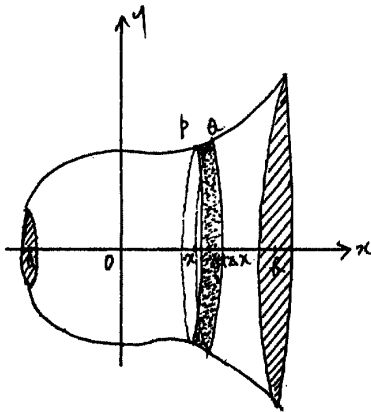
$$\text{したがって、} L(t) = \int_a^b \sqrt{|f'(t)|^2 + |g'(t)|^2} dt \text{である。}$$

曲線が $y = f(x) \quad (a \leq x \leq b)$ で与えられているときは、 $\begin{cases} x = t \\ y = f(t) \end{cases} \quad (a \leq t \leq b)$

と考えれば、 $L = \int_a^b \sqrt{1 + \{f'(t)\}^2} dt = \int_a^b \sqrt{1 + \left\{\frac{dy}{dx}\right\}^2} dx$ である。

また、 $a \leq x \leq b$ において、 $f(x) \geq 0$ とする。図のような曲線 $y = f(x)$ ($a \leq x \leq b$) を x 軸のまわりに回転してできる回転体の側面積 S は、

$$S = 2\pi \int_a^b y \sqrt{1 + \left\{\frac{dy}{dx}\right\}^2} dx \text{ であることを導く。}$$



x 軸に垂直な平面 $x = a$ と点 $(x, 0)$ を通り軸に垂直な平面で囲まれた回転体の側面積は、 x の関数で $S(x)$ とおける。

このとき、 x の増分を Δx とすると、

i) $\Delta x > 0$ のとき、

曲線上の点 $P(x, f(x))$ と点 $Q(x + \Delta x, f(x + \Delta x))$ を結ぶ線分 PQ を斜高とし、上底、下底の半径がそれぞれ、 $f(x)$ 、 $f(x + \Delta x)$ の円錐台の側面積で近似できる。

$$S(x + \Delta x) - S(x) \doteq \frac{1}{2} \{2\pi \cdot f(x) + 2\pi \cdot f(x + \Delta x)\} \cdot PQ$$

$\therefore S(x + \Delta x) - S(x) \doteq \pi \{f(x) + f(x + \Delta x)\} \cdot \sqrt{(\Delta x)^2 + \{f(x + \Delta x) - f(x)\}^2}$
両辺を Δx で割ると

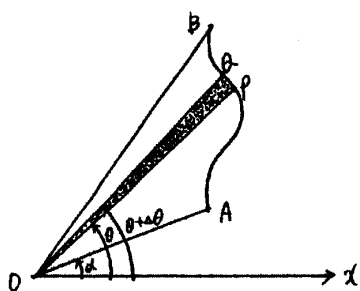
$$\frac{S(x + \Delta x) - S(x)}{\Delta x} \doteq \pi \{f(x) + f(x + \Delta x)\} \cdot \sqrt{1 + \left\{\frac{f(x + \Delta x) - f(x)}{\Delta x}\right\}^2}$$

$$\Delta x \rightarrow 0 \text{ のとき、} S'(x) = 2\pi f(x) \cdot \sqrt{1 + \left\{\frac{df(x)}{dx}\right\}^2} \dots (\ast 4)$$

ii) $\Delta x < 0$ のときは、 $S(x) - S(x + \Delta x)$ として考えると、 $(\ast 4)$ の式が求められる。

したがって、 $S = 2\pi \int_a^b y \sqrt{1 + \left\{\frac{dy}{dx}\right\}^2} dx$ である。

極座標で表された曲線 $C: r = f(\theta)$ ($\alpha \leq \theta \leq \beta$) において、 $A(r_1, f(\alpha))$ 、 $B(r_2, f(\beta))$ 及び基点 O とする。このとき、 $P(r, f(\theta))$ として、 OA と OP 及び曲線 C で囲まれた図形の面積は、 θ の関数で $S(\theta)$ とおける。



$$S(\theta + \Delta\theta) - S(\theta) \doteq \frac{1}{2} r^2 \Delta\theta \text{ より}$$

$$\frac{S(\theta + \Delta\theta) - S(\theta)}{\Delta\theta} \doteq \frac{1}{2} r^2$$

$$\Delta\theta \rightarrow 0 \text{ のとき、} S'(\theta) = \frac{1}{2} r^2$$

$$\text{したがって、} S = \frac{1}{2} \int_a^b r^2 d\theta \text{ である。}$$

3. 求積問題を斬る

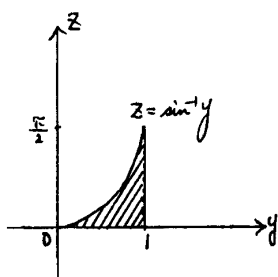
今まで考えてきたことを使って、立体の体積を求める良問と思われる問題を挙げておく。解法のおもしろさを楽しむことができる。

(1) どの座標軸に垂直にスライスするか見抜け

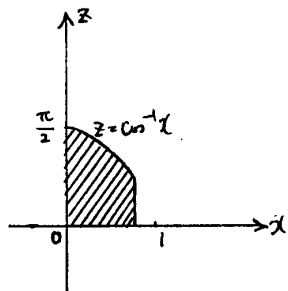
★ $x y z$ 空間の4点 $(0, 0, 0)$ 、 $(\cos\theta, \sin\theta, 0)$ 、 $(\cos\theta, \sin\theta, \theta)$ 、 $(0, 0, \theta)$ を頂点とする長方形を R_θ とし、 θ が 0 から $\frac{\pi}{2}$ まで変化するとき、 R_θ が動いてできる立体の体積を求めよ。

立体をどのような平面でスライスすれば、切断面の面積が簡単に求められ、かつ積分し易い関数が出てくるかを見抜くことが解法の鍵。 x 軸、 y 軸、 z 軸に垂直にスライスした場合と z 軸を含む平面でスライスした場合などが考えられる。

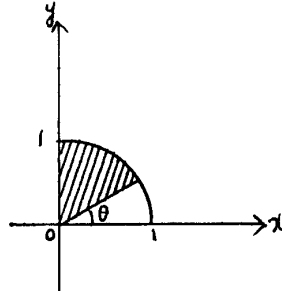
x 軸に垂直な平面で切断



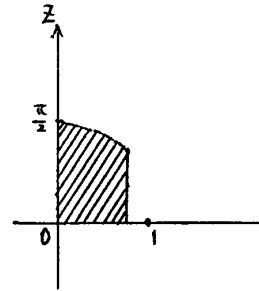
y 軸に垂直な平面で切断



z 軸に垂直な平面で切断



z 軸を含む平面で切断

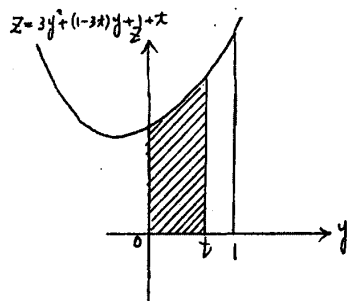


★ $x y z$ 空間において、不等式

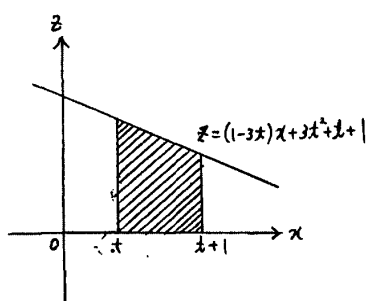
$0 \leq y \leq 1$ 、 $y \leq x \leq y + 1$ 、 $0 \leq z \leq 1 + x + y - 3(x - y)y$ のすべてを満足する x 、 y 、 z を座標にもつ点全体がつくる立体の体積を求めよ。

座標軸に垂直に切断するとき、その座標軸の文字を固定して、切断面の面積を求めるということだから、次数の高い文字を固定することから考えていく。

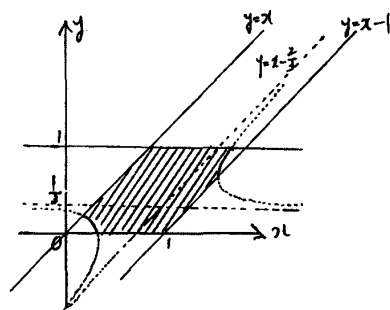
x軸に垂直な平面で切断



y軸に垂直な平面で切断

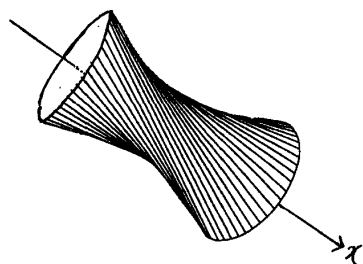


z軸に垂直な平面で切断



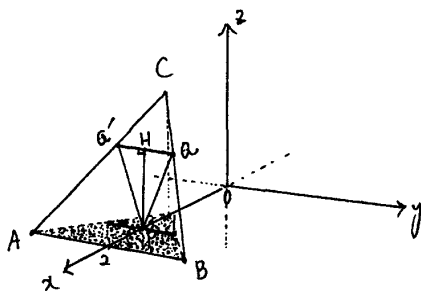
(2) 回転させて切断するか切断して回転させるか見極めよ

★Oを原点とする $x y z$ 空間に $A(0, \frac{1}{2}, 0)$ 、 $B(\cos \theta, \frac{1}{2}, \sin \theta)$ がある。点Bから x 軸に下ろした垂線の足をCとする。(ただし、 $0 < \theta < \frac{1}{2}\pi$) このとき、折れ線OABCを x 軸のまわりに1回転してできる曲面で囲まれた立体の体積を θ を用いて表せ。



軸とねじれの位置にある直線を、その軸のまわりに回転したときにできる曲面は左図のような形になり回転一葉双曲面という。

★ $x y z$ 空間に3点 $A(2, -1, 0)$ 、 $B(2, 1, 0)$ 、 $C(1, 0, \sqrt{3})$ をとる。このとき、 $\triangle ABC$ を x 軸のまわりに回転してできる回転体の体積を求めよ。



$\triangle ABC$ を x 軸のまわりに回転させるとき、 x 軸に垂直な平面で $\triangle ABC$ を切断すると、 x 軸に垂直な線分を回転させることになる。回転の中心から最も近い点と最も遠い点を半径とする2つの円にはさまれた図形(円環形)が切断面である。図において、回転体の切断面の面積を $S(x)$ とおくと $S(x) = \pi \cdot PQ^2 - \pi \cdot PH^2 = \pi \cdot QH^2$ を積分することになる。

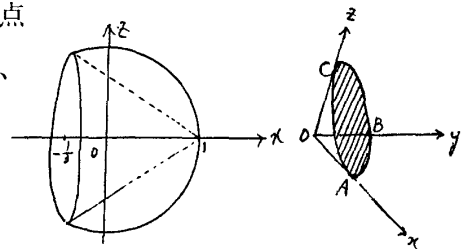
ある平面上の図形Cを直線Lのまわりに回転してできる立体の体積をVとし、Lに垂直な断面で図形Cを切ったその切り口が線分QRのとき、Lを含みQRに平行な平面を α とすると、

$$V = (\text{図形Cの平面}\alpha\text{上への正射影}C'\text{をLのまわりに回転してできる立体の体積})$$

は知っておくと便利

★xyz空間における3点をA(1, 0, 0)、B(0, 1, 0)、C(0, 0, 1)とする。A、B、Cを通る円によって囲まれる円板をx軸のまわりに回転したときにできる回転体の体積を求めよ。

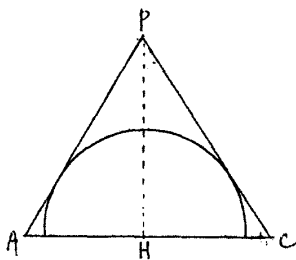
この円板が、O(0, 0, 0)を中心とする半径1の球を3点A、B、Cを通る平面で切断した切断面であることに気づけば、球の1つの直径のまわりに球の一部分を回転させると球面上を動くことから回転体の概形も見えてくる。



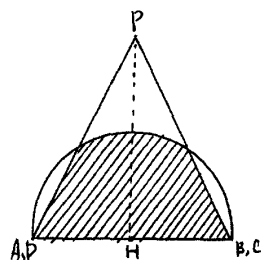
(3) 断層写真のようにいろいろな角度から立体を切断してみる

★正四角錐(正方形を底面とし、その各辺を底辺とする4つの合同な二等辺三角形と底面とで囲まれる図形)Vに対し、その底面上に中心をもち、そのすべての辺と接する球がある。底面の1辺の長さをaとするとき、球と正四角錐Vとの共通部分の体積を求めよ。

平面PACで切断



POを含みABに平行な平面で切断

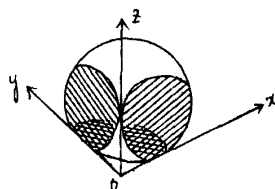


(4) 立体の対称性を考えてその一部を取り出して考える

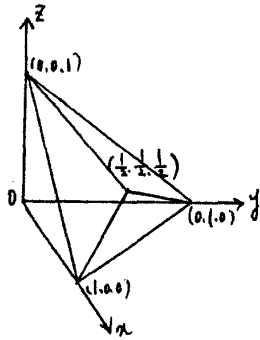
★座標空間内にx軸、y軸、z軸のすべてに接する半径1の相異なる球が8個ある。これらの8個の球の表面および内部の点よりなる領域をそれぞれ $S_1, S_2, S_3, S_4, S_5, S_6, S_7, S_8$ で表すとき、これらの領域の和集合 $S = S_1 \cup S_2 \cup S_3 \cup S_4 \cup S_5 \cup S_6 \cup S_7 \cup S_8$ の体積を求めよ。

$$x \geq 0, y \geq 0, z \geq 0$$

部分の概形を書いておく。



★
$$\begin{cases} |x| + |y| \leq 1 \\ |y| + |z| \leq 1 \\ |z| + |x| \leq 1 \end{cases}$$
 を満たす点 (x, y, z) の集合からなる立体の体積を求めよ。



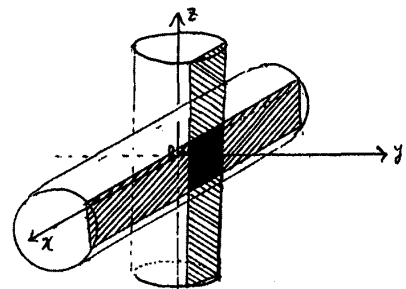
$x \geq 0, y \geq 0, z \geq 0$ の部分で考えることになるが、立体の概形が分かれば、積分しなくても立方体の体積と四角錐の体積または三角錐の体積などで求められる。

★
$$\begin{cases} x^2 + y^2 \leq a^2 \\ y^2 + z^2 \leq a^2 \\ z^2 + x^2 \leq a^2 \end{cases}$$
 を満たす点 (x, y, z) の集合からなる立体の体積を求めよ。

$x \geq 0, y \geq 0, z \geq 0$ の部分で考える。前の問題がヒントになる。この問題を解く前に

$$\begin{cases} x^2 + y^2 \leq a^2 \\ y^2 + z^2 \leq a^2 \end{cases}$$
 を満たす点 (x, y, z) の集合からなる立体の体積を求めるとよい。

※この立体は、アルキメデスの立体と呼ばれ、教科書では2本の軸に平行な平面で切断して、その切断面の面積を積分する解法で解いているが、この解法だけでは、この問題を解くことはできない。



(5) バームクーヘン型積分を使ってみよう

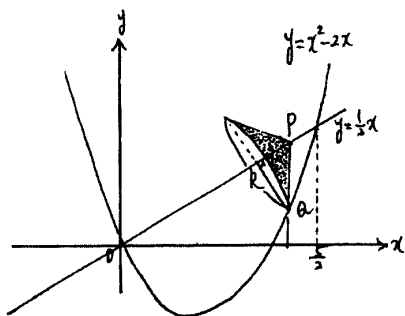
★ $y = -3x^2 + 4x$ と x 軸で囲まれた図形を y 軸の回りに回転したときにできる回転体の体積を求めよ。

(6) 立体の切断面が積分する方向と垂直でないときは要注意

★ 放物線 $C: y = x^2 - 2x$ と直線 $L: y = \frac{1}{2}x$ とで囲まれた図形をこの直線 L を軸として回転したときにできる回転体の体積を求めよ。

立体の切断面が積分する座標軸の方向と垂直でないとき切断面に微小な厚みをつけると座標軸に垂直な場合とはその厚みがちがう。したがって、これを無限に集めると大きなちがいになってくる。このようなとき、次の解法のいずれかで考えるとよい。

1 とうがり帽子型積分による解法



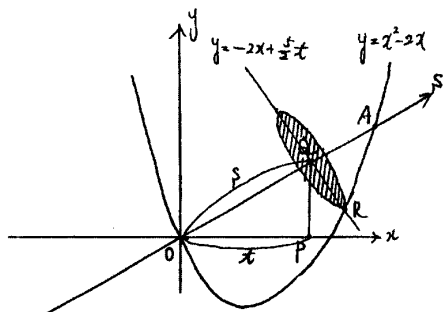
図のように、線分PQを直線Lのまわりに回転するとき、Qから直線Lに下ろした垂線の足をRとし、中心R、半径QRの円を底面としPを頂点とする円錐の側面積をS(x)とおく。

$$S(x) = \pi \cdot PQ \cdot QR \times \frac{2\pi \cdot QR}{2\pi \cdot PQ} = \pi \cdot PQ \cdot QR$$

ここで、 $PQ : QR = \sqrt{5} : 2$ より $S(x) = \frac{2}{\sqrt{5}} \pi \cdot PQ^2$

$$\therefore V = \frac{2}{\sqrt{5}} \pi \int_0^{\frac{5}{2}} \left\{ \frac{1}{2}x - (x^2 - 2x) \right\}^2 dx = \frac{125\sqrt{5}}{96} \pi$$

2 回転軸の方向に座標軸を新設し、座標相互の関係式を導き、置換積分の考え方で1変数にしていく解法 [その1] (厚みの微調整をすることになる)



図のように、x軸上の点P(t, 0)にs軸上の点でOQ = sである点Qを対応させる。

$$Q\left(t, \frac{1}{2}t\right) \text{ を通り } s \text{ 軸に垂直な直線 } y = -2x + \frac{5}{2}t$$

と放物線Cの交点をRとすると $\begin{cases} y = x^2 - 2x \\ y = -2x + \frac{5}{2}t \end{cases}$ より

R $\left(\sqrt{\frac{5}{2}}t, \frac{5}{2}t - 2\sqrt{\frac{5}{2}}t \right)$ だから、 $S(t) = \pi \cdot QR^2$ を計算して

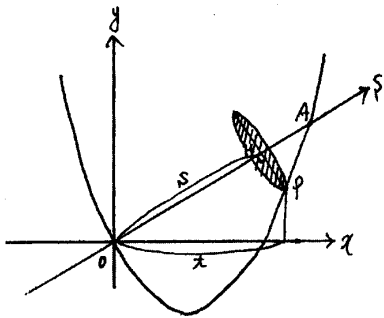
$$\therefore V = \pi \int_0^{OA} \left[\left(\sqrt{\frac{5}{2}}t - t \right)^2 + \left\{ \left(\frac{5}{2}t - 2\sqrt{\frac{5}{2}}t \right) - \frac{1}{2}t \right\}^2 \right] ds = \pi \int_0^{\frac{5}{2}} 5 \left(\sqrt{\frac{5}{2}}t - t \right)^2 ds$$

ここで、 $s : t = \sqrt{5} : 2$ だから、 $s = \frac{\sqrt{5}}{2}t \quad \therefore ds = \frac{\sqrt{5}}{2} dt$

したがって、 $V = \pi \int_0^{\frac{5}{2}} 5 \left(\sqrt{\frac{5}{2}}t - t \right)^2 \frac{\sqrt{5}}{2} dt = \frac{125\sqrt{5}}{96} \pi$

3 回転軸の方向に座標軸を新設し、座標相互の関係式を導き、置換積分の考え方で1変数にしていく解法 [その2] (グラフ上の点から新座標軸に垂線を下ろし、内積0として関係式を導く)

図のように、放物線C上の点P (t, t²-2t) からs軸に下ろした垂線の足をHとし、
OH=sとおくと、



$$H \left(\frac{2}{\sqrt{5}} s, \frac{1}{\sqrt{5}} s \right)$$

ここで、点Pと直線Lの距離は

$$PH = \frac{|t - 2(t^2 - 2t)|}{\sqrt{1^2 + 2^2}} \text{ だから } S(t) = \pi \cdot PH^2$$

$$\text{また、} \overrightarrow{OH} \perp \overrightarrow{PH} \text{ より、} \overrightarrow{OH} \cdot \overrightarrow{PH} = 0 \text{ ここで } \overrightarrow{OH} = \left(\frac{2}{\sqrt{5}} s, \frac{1}{\sqrt{5}} s \right)$$

$$\overrightarrow{PH} = \left(\frac{2}{\sqrt{5}} s - t, \frac{1}{\sqrt{5}} s - (t^2 - 2t) \right) \text{ だから } s = \frac{\sqrt{5}}{5} t^2 \therefore ds = \frac{2\sqrt{5}}{5} t dt$$

$$\text{したがって、} V = \pi \int_0^{OA} \frac{|t - 2(t^2 - 2t)|^2}{5} ds = \pi \int_0^{\frac{5}{2}} \frac{(-2t^2 + 5t)^2}{5} \cdot \frac{2\sqrt{5}}{5} t dt$$

$$= \frac{125\sqrt{5}}{96} \pi$$

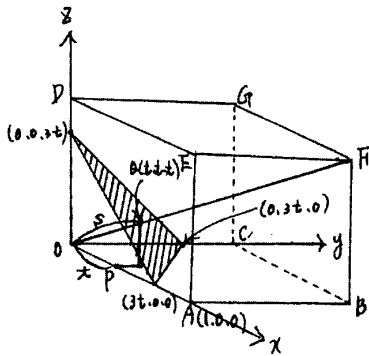
★一辺の長さが1の立方体OABC-DEFGがある。この立方体を対角線OFのまわりに1回転してできる回転体の体積を求めよ。

①回転軸の方向に座標軸を新設し、座標相互の関係式を導き、置換積分の考え方で1変数にしていく解法 [その1] (厚みの微調整をすることになる)

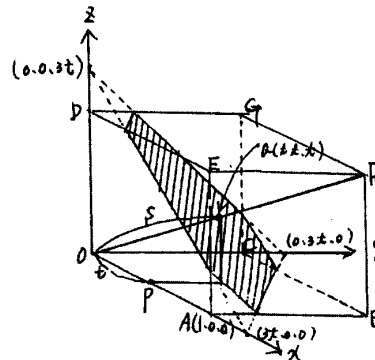
図のように、x軸上の点P (t, 0, 0) にs軸上の点でOQ=sである点Qを対応させる。

Q (t, t, t) を通りs軸に垂直な平面 x + y + z = 3t で立方体OABC-DEFGを切断したときの、切断面の形とその切断面を回転させたときの面積S(x) は、次のようになる。

(ア) $0 \leq t \leq \frac{1}{3}$ のとき



(イ) $\frac{1}{3} \leq t \leq \frac{1}{2}$ のとき



(ウ) $\frac{1}{2} \leq t \leq \frac{2}{3}$ のとき

(エ) $\frac{2}{3} \leq t \leq 1$ のとき

対称性より (イ) の場合を
反転させた六角形となる。

対称性より (ア) の場合を
反転させた三角形となる。

ここで、 $s = \sqrt{3} t$ だから $ds = \sqrt{3} dt$

また、回転体の対称性より (ア) と (イ) の場合で回転体の体積を求めて 2 倍すればよい。

$$\text{したがって、} V = 2 \left\{ \pi \int_0^{\frac{1}{3}} (6t^2) \cdot \sqrt{3} dt + \pi \int_{\frac{1}{3}}^{\frac{1}{2}} (6t^2 - 6t + 2) \cdot \sqrt{3} dt \right\} = \frac{\sqrt{3}}{3} \pi$$

★放物線 $y = \frac{3}{4} - x^2$ を y 軸のまわりに回転してできる曲面 K を原点を通り回転軸と 45°

の角をなす平面 H で切る。曲面 K と平面 H で囲まれた立体の体積を求めよ。

①曲面 K は、回転放物面といわれる。 y 軸上の点 $P(0, k, 0)$ に原点 O を通り平面 H に垂直な直線に方向をつけて s 軸を新設し、 s 軸上の点で $OQ = s$ である点 Q を対応させる。曲面 $K: y = \frac{3}{4} - x^2 - z^2$ を回転軸と 45° の角をなす平面 $H: y = x + k$ で切断したときの切断

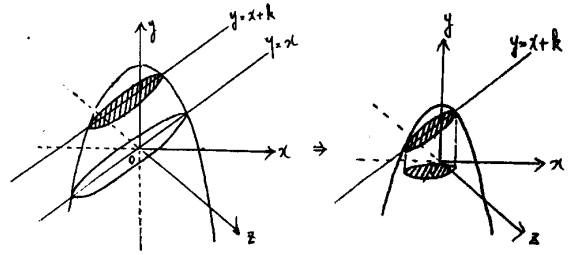
面を zx 平面に正射影した図形は $\begin{cases} y = \frac{3}{4} - x^2 - z^2 \\ y = x + k \end{cases}$ より、

$$\left(x + \frac{1}{2}\right)^2 + z^2 = 1 - k \quad \text{切断面の面積を } S(k) \text{ とおくと}$$

$$S(k) \cdot \cos 45^\circ = \pi \sqrt{1-k^2}$$

$$\therefore S(k) = \sqrt{2}(1-k)\pi$$

ここで、 $s = \frac{1}{\sqrt{2}}k$ だから $ds = \frac{1}{\sqrt{2}}dk$



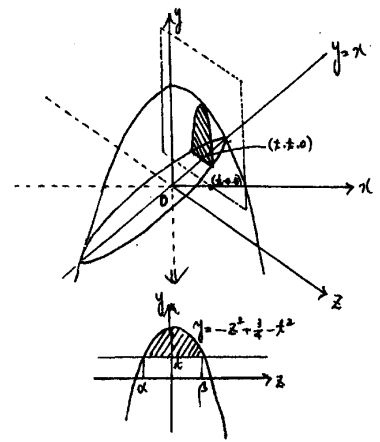
したがって、 $V = \int_0^1 S(k) \cdot \frac{1}{\sqrt{2}} dk = \sqrt{2}\pi \int_0^1 (1-k) \cdot \frac{1}{\sqrt{2}} dk = \frac{1}{2}\pi$

② 曲面 $K: y = \frac{3}{4} - x^2 - z^2$ と平面 $H: y = x$ で囲まれた立体を x 軸に垂直な平面 $x = t$ で

切断したときの切断面の面積 $S(t)$ は右の図より

$$S(t) = \int_{\alpha}^{\beta} \left\{ \left(\frac{3}{4} - t^2 - z^2 \right) - t \right\} dz$$

$$= \frac{1}{6} (\beta - \alpha)^3$$



ここで、 α, β は $z^2 + t^2 + t - \frac{3}{4} = 0$ の解だから

解と係数の関係より $(\beta - \alpha)^2 = -4 \left(t^2 + t - \frac{3}{4} \right)$

$$S(t) = \frac{1}{6} \left\{ \sqrt{-4t^2 - 4t + 3} \right\}^3$$

したがって、 $V = \frac{1}{6} \int_{-\frac{3}{2}}^{\frac{1}{2}} \left\{ \sqrt{-4t^2 - 4t + 3} \right\}^3 dt = \frac{1}{2}\pi$

[カヴァリエリの原理]

2つの立体をある平面に平行な平面で切断したとき、どの切断面の面積もつねに等しいならばこの2つの立体の体積は等しい。

この原理を使えば、回転放物面 $y = \frac{3}{4} - x^2 - z^2 - x$ と zx 平面で囲まれたドーム型の体積を

求めるだけでよい。

4. 講義を終えて

「導関数の定義」と「微分積分学の基本定理」を土台にして、基本となる考え方に一貫性をもた

せながら展開した内容である。実際には、空間図形の模型やコンピュータ・グラフィックスでイメージさせながら解説している。ここでは、区分求積法との関連が扱えなかったが、立体の体積を楽しく求めるという目標は達成できたと考えている。今後の取り組みを通して内容の改善を進めていきたい。

【参考図書】

「積分の歴史－アルキメデスからコーシー、リーマンまで－」 B.ニキフォロフスキー著 現代数学社

「立体のとらえかた」 秋山 仁 著 駿台文庫

「数学入試問題詳解」 聖文社編集部編 聖文社

「秋山仁の数学タイムトラベル」 秋山 仁 著 NHK出版